

TIVOLI-TAL



Tivoli er grundlagt som et aktieselskab. Det vil sige, at Tivoli har mange ejere, der hver har skudt penge ind i virksomheden og som derfor har ret til at få del i overskuddet, og til at være med til at bestemme over Tivoli A/S.

En stor dansk tobaksvirksomhed ejer aktiemajoriteten på 57% af aktierne. En stor dansk bank ejer 5% af aktierne og resten er ejet af private, der har valgt at investere i Tivoli.

Når man er et aktieselskab er der mange regler for, hvad man skal fortælle offentligheden om sin virksomhed. Blandt andet skal man hvert år offentliggøre sit regnskab. I regnskabet står der, hvor meget Selskabet har haft i indtægt og hvor store udgifterne har været i året.

Tivoli A/S er et børsnoteret selskab. Det betyder, at Københavns Fondsbørs styrer køb og salg af

aktierne. Når et selskab er fondbørs-noteret er der endnu flere regler, man skal overholde. Man skal også fortælle til fondsbørsen som det første, hvis der sker noget i selskabet, der kan påvirke aktiekursen.

Aktiekursen er prisen på aktierne, og prisen stiger typisk når det går godt for et selskab og falder, når det går skidt.

Grunde til, at Fondsbørsen skal have besked først er, at den derefter står for at meddele nyheden til alle, der handler på Fondsbørsen. På den måde prøver man at sikre, at der ikke er nogen 'insidere', der vinder eller taber ekstra mange penge fordi de ved noget om en virksomhed, som ingen andre ved. Hvis man er 'insider' - det vil sige en der har indgående kendskab til selskabets forhold og indflydelse på dem - er der strenge regler for, hvordan man må købe og sælge aktier i det selskab, man er 'insider' i.

Tivoli-tal



I 1843 var Tivolis areal:	59.100 m ²
Nuværende areal i Tivoli:	82.717m ²
Bebygget areal:	20.679 m ²
Tivoli Søens areal:	6.200 m ² (9.000 m ³ vand)

På Tivolis første åbningsdag 15. august 1843 besøgte 3.615 gæster Haven.

Besøgende i Tivolis første år: 174.609

112.802 gæster besøgte Tivoli på 100-års dagen den 15. august 1943.

Der var 104.000 gæster på Tivolis 150 års dag

Antal restauranter: 29

Restaurationspladser: 10.000 (5.000 indendørs)

Tivolis sæson i 2010



- Sommersæson er fra den 15. april til den 26. september
- Halloween i Tivoli er fra den 15. til den 24. oktober
- Jul i Tivoli er fra den 12. november til den 30. december

Bemærk, at de tal, der anvendes i denne opgave ikke nødvendigvis svarer til tallene i den seneste årsrapport. Hvis du skal bruge korrekte og opdaterede tal om Tivoli A/S, skal du downloade seneste årsrapport på tivoli.dk

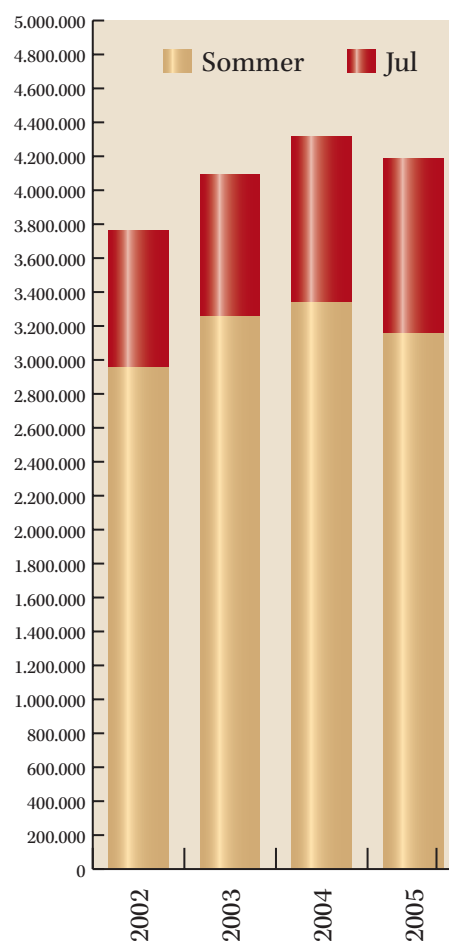


REGN MED BESØGENDE

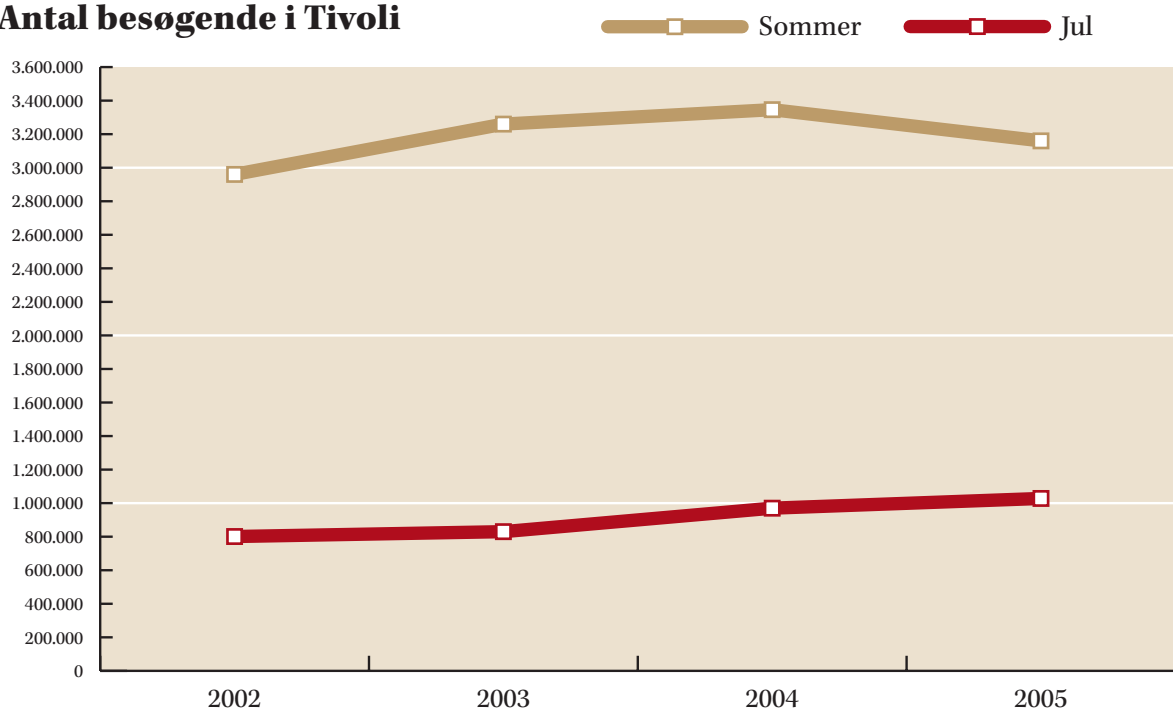
Til højre er et diagram over antallet af besøgende i Tivoli fra 02 til 05.

- Hvilket af årene var der flest besøgende?
- Hvilket år var der flest i julesæsonen?
- Hvor mange procent flere besøger Tivoli i 2003 end i 2002?
- I faktaboksen står, hvornår Tivoli er åben i 2010. Hvor mange dage er Tivoli åben i 2010?
- I 2005 var der 4.188.000 besøgende i Tivoli. Hvor stort var det gennemsnitlige besøgstal pr. dag i 2005?
- Nedenfor er en anden måde at vise besøgstallet på. Beskriv forskellen og forklar hvilket diagram, du synes, bedst viser besøgstallene.

Antal besøgende i Tivoli



Antal besøgende i Tivoli





ARBEJD MED TIVOLIS REGNSKAB

- Hvad tror du enheden er på tallene i tabellen?
- Hvor mange procent betaler Tivoli i skat de tre år?
- Hvor stor er resultatet i procent af omsætningen de tre år?
- Hvis nu medarbejderne skulle dele overskuddet, hvor meget fik hver medarbejder så hvert af årene?
- Herunder er en tabel over Tivolis entreindtægter i årene fra 1996 til 2004. Tegn et diagram over tallene.
- Hvor er det største fald? (se bort fra 01/02, da der ikke er tal for hele dette år). Hvor stort er dette fald?
- Hvor er den største stigning? (se bort fra 01/02, da der ikke er tal for hele dette år). Hvor stor er denne stigning i procent?

Tivoli Koncernen	2002/03	2003/04	2004/05
Omsætning	367,8	404,2	458,8
Resultat før skat	16,9	22,8	47,9
Årets resultat	11,4	16,1	33,7
Antal medarbejdere	510	472	461

Tivolis entreindtægter i millioner kr.			
	Billetter	Abonnement	I alt
96/97	60,1	4,8	64,9
97/98	65,1	6,1	71,2
98/99	76,3	7,7	84
99/00	81,7	10	91,7
00/01	86,9	13,8	100,7
01/02 (6 mdr)	17	0	17
02/03	90	15,1	105,1
03/04	87,8	27,7	115,5



ARBEJD MED REGNEARK

Du kan også lave dit diagram på computer.

- Allerførst skal du selvfølgelig starte programmet. Her er det Excel vi viser.
- Skriv tallene fra tabellen ind i dit regneark.
- Marker det område, hvor de tal står, der skal være med i dit diagram.
- Klik på diagramtegnet (se den røde pil) og vælg hvilken diagramtype, du har brug for.

The screenshot shows the Microsoft Excel interface with a table of data and the 'Guiden Diagram - trin 1 af 4 - diagramtype' dialog box open. The table contains the following data:

1	Entreindtægter			
2	Årstal	Billetter	Abonnement	I alt
3	96/97	60,1	4,8	64,9
4	97/98	65,1	6,1	71,2
5	98/99	76,3	7,7	84
6	99/00	81,7	10	91,7
7	00/01	86,9	13,8	100,7
8	01/02	17	0	17
9	02/03	90	15,1	105,1
10	03/04	87,8	27,7	115,5

The dialog box 'Guiden Diagram - trin 1 af 4 - diagramtype' shows various chart types under 'Standardtyper' and 'Brugerdefinerede typer'. A red arrow points to the chart icon in the Excel ribbon.

- Følg anvisningerne. Forsøg dig frem.
- Prøv de forskellige faneblade, skriv og vælg og se hvad der sker.

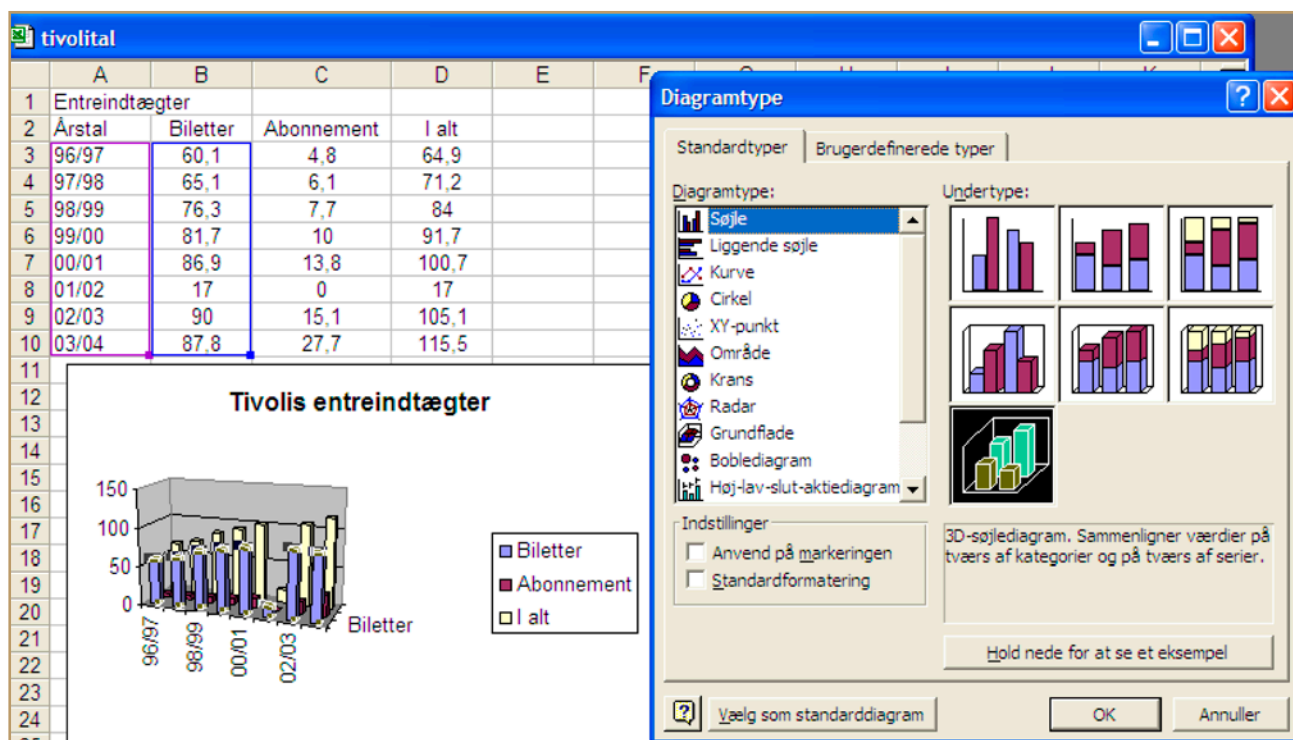
The screenshot shows the 'Guiden Diagram - trin 3 af 4 - diagramindstillinger' dialog box. The 'Titler' tab is selected, showing fields for 'Diagramtitel', 'Kategoriakse (X)', 'Serieakse (Y)', and 'Værdiakse (Z)'. A 3D bar chart preview is shown on the right, with a legend indicating three series: Serie1 (blue), Serie2 (red), and Serie3 (yellow). The chart shows data for the years 96/97, 97/98, 98/99, 99/00, 00/01, 01/02, 02/03, and 03/04. The Y-axis ranges from 0 to 120. The X-axis is labeled 'S1' and the Z-axis is labeled 'S3'.

- g. Når du har lavet et diagram kan du sagtens ændre det:

Ved et højreklik på en søjle kan du ændre dit valg af diagramtype.

Ved klik på akserne kan du ændre enheder, start, typografi og meget mere

Ved klik på søjler eller kurver kan du ændre farver, tykkelser, mønster med mere.



- h. Vælg selv hvordan dit diagram skal se ud. Lav tre forskellige – bare for at vise hvor god du er ...



TIVOLIS ÅRSREGNSKAB

Tivolis årsregnskab findes på www.tivoli.dk/virksomheden hvor du kan downloade det.

Opgave 1

Download en årsrapport og beskriv, hvilke dele den består af. Prøv at se på, hvad de enkelte dele skal fortælle, og hvorfor de er i årsrapporten. Hvem er afsenderen af årsrapporten?

Opgave 2

Lav en præsentation for klassen af Tivolis aktiviteter i det år, årsrapporten handler om.

